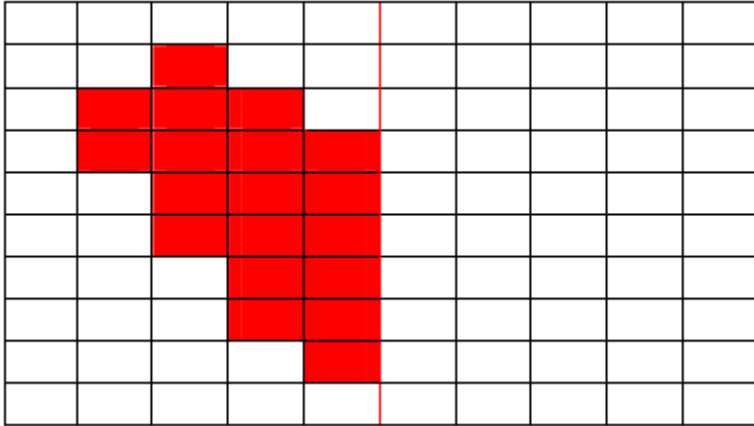


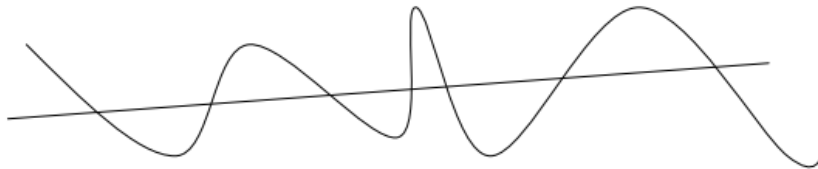
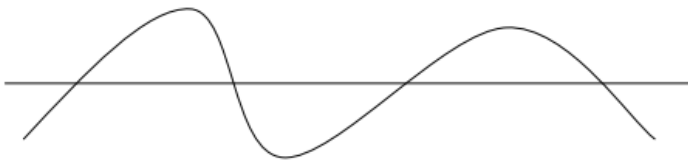
VAJE IZ MATEMATIKE (4. RAZRED)

GEOMETRIJA

1. Nariši drugi del slike.



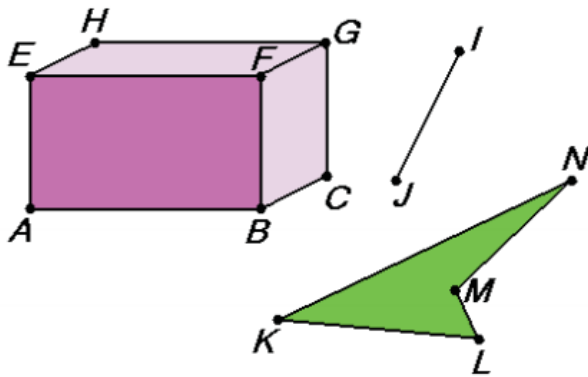
2. Nariši in označi točke.



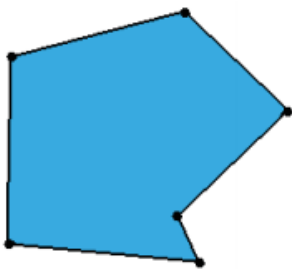
3. Nariši tri neskljenjene ravne črte.

4. Nariši tri sklenjene krive črte.

5. Izpiši stranice, robove in daljice.




6. Poimenuj narisani lik. Koliko ima stranic, koliko oglišč?



7. Nariši dve vzporedni premici.

8. Nariši dve premici, ki sta pravokotni ena na drugo.

9. Preberi spodnje povedi in jih dopolni.



Z leve proti desni si sledijo _____, _____, _____, _____,
_____ in _____. Modra puščica kaže na _____ pravokotnika, rdeča puščica pa
na _____ kvadrata.

Pravokotnik in kvadrat imata ____ stranice, petkotnik _____, trikotnik pa _____.