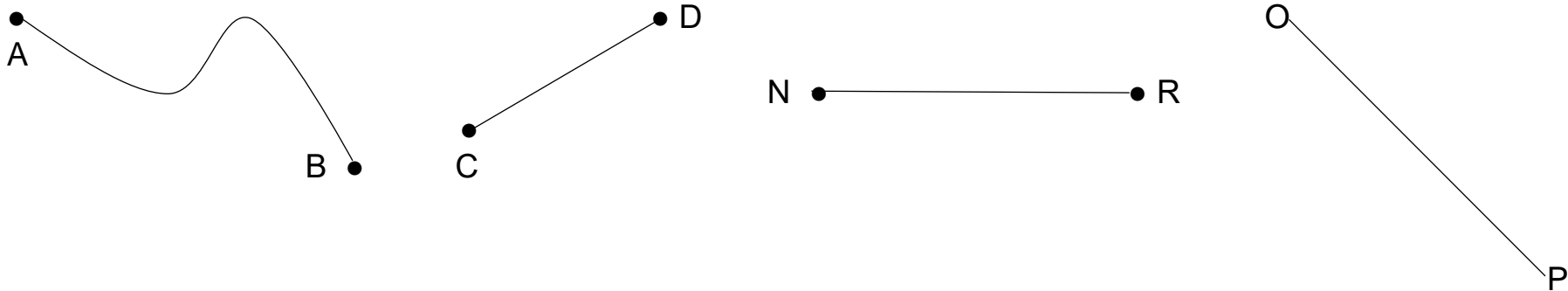


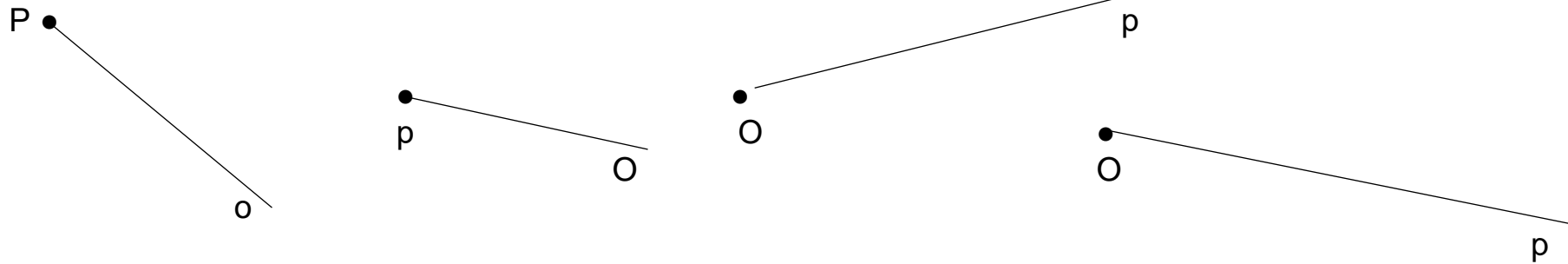
VAJE IZ MATEMATIKE – 4. RAZRED
DALJICA, PREMICA, POLTRAK

Naloga 1:

a) Obkroži tisto črto ali črte, ki niso daljice.

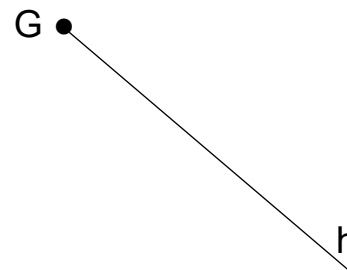
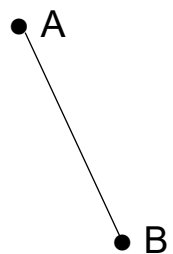


b) Obkroži poltrak p, s krajiščem v točki O.



c) Nariši premico s. Uporabi geotrikotnik.

Naloga 2: Poimenuj spodnje črte, kot je prikazano v primeru 1.



C•

D•


1: daljica AB _____

2: _____

3: _____

4: _____

Naloga 3: Spodnjih 9 točk, poveži s štirimi ravnimi črtami, ne da bi dvignil svinčnik.



Katere črte so nastale med posameznimi točkami? Preštej koliko je vseh.