




VAJE IZ MATEMATIKE – 3. RAZRED

DENAR

1. Znesek prikazan s kovanci in bankovci, zapiši na dva različna načina.

DENAR	€ in centi	Zapis z decimalno vejico
		
		
		

2. S črto poveži enake denarne vrednosti.

20,55 €	507,95€
16 € 5 c	20 € 0 c
16,50 €	570,95 €
507 € 95 c	16,05 €
20,00 €	20 € 55 c
570 € 95 c	16 € 50 c

3. Mama je vzela denar v bankovcih in kovancih, v skupni vrednosti 20 evrov. Denar je dala v levi in desni žep, v vsakega enako. Med potjo je 3 € iz levega žepa premestila v desnega.

Koliko denarja več ima sedaj v desnem žepu kot v levem?

R:	Nariši:
O:	

4. Natančno si oglej, koliko denarja ima Maja in ustrezno izpolni tabelo.



EVRI	CENTI	SKUPNI ZAPIS Z DECIMALNO VEJICO

5. Obkroži vsiljivca.

17,30

11,50 €

98,05€

298c

19 € 11 c

0,02 €

43 € 90 c

5000,5€

6. a) Maja je v trgovini kupila hlače za 8 evrov, jopico za 5 evrov, kapo za 4 evre in lepilni trak za 1 evro in 30 centov. Koliko je Maja porabila za celotni nakup? Pomagaj si z denarjem na svoji mizi.

R:

O:

b) Prodajalka ji je na blagajni zaračunala še 10 centov za vrečko, koliko je bila končna vsota?

R:

O: